

2

الحوسبة

1446 هـ - 24-25 م

منتصف ف 2

تدريبات
دعم
وإثراء



يا رب انصر عبادك المؤمنين
وجنّدك الموحدين في كل مكان

حتماً ستعود

القدس والأقصى

ملحوظة: هذه التدريبات لا تقني عن الكتاب المدرسي

الاسم / الصف / 2-

التميز





الصف الثاني

السؤال الأول : اختر الإجابة الصحيحة فيما يأتي :

1. أي من ايقونات الملفات الآتية تشير إلى ملف الفيديو :



ج.



ب.



أ.

☐☐☐

2. أي من ايقونات الملفات الآتية تشير إلى ملف صوتي :



ج.



ب.



أ.

☐☐☐

3. أي من ايقونات الملفات الآتية تشير إلى ملف نصي :



ج.



ب.



أ.

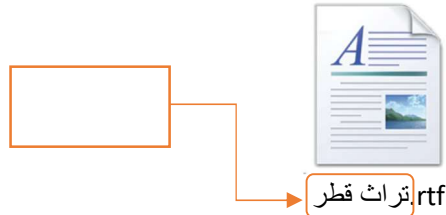
☐☐☐



مادة الحوسبة وتكنولوجيا المعلومات

الصف الثاني

4. يشير السهم في الملف الاتي الي :

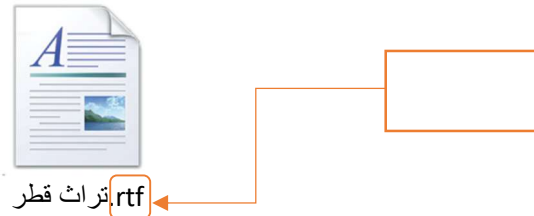


ج. ايقونة الملف

ب. امتداد الملف

أ. اسم الملف

5. يشير السهم في الملف الاتي الي :

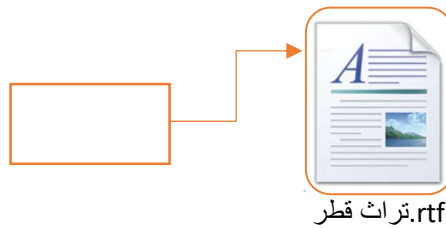


ج. ايقونة الملف

ب. امتداد الملف

أ. اسم الملف

6. يشير السهم في الملف الاتي الي :



ج. ايقونة الملف

ب. امتداد الملف

أ. اسم الملف



مراجعة منتصف الفصل الدراسي الثاني 2024-2025 م

مادة الحوسبة وتكنولوجيا المعلومات

الصف الثاني



7. البرنامج المستخدم للتصفح عبر الأنترنت هو:



ج.



ب.



أ.

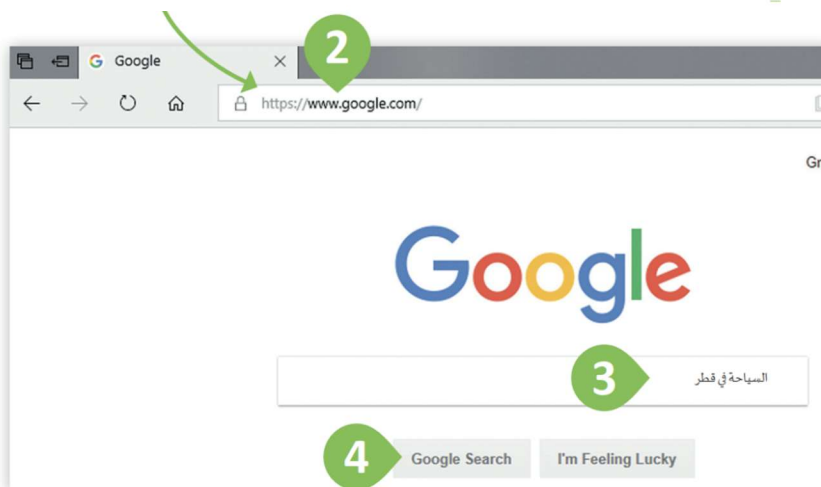


8. أي من الآتي هو شريط العنوان في صفحة الويب:

أ. 2

ب. 3

ج. 4





الصف الثاني

السؤال الثاني . اجب عن الأسئلة الآتية بشكل صحيح

1. حدد حجم المساحة التخزينية لكل مما يأتي :

حجم الملف	الامتداد	
7 كيلو بايت (KB)	.rtf	

حجم الملف	الامتداد	
18 كيلوبايت (KB)	.png	

2. قم بتوصيل العبارات في القائمة (أ) بما يناسبها من القائمة (ب) في قواعد التصفح الامن عبر الانترنت :



أ.

استخدام برامج مضادة
للفيروسات




استخدام اسم مستعار

تجنب الضغط علي
الاعلانات

ب.



السؤال الثالث : اكتب اسم الملف، ضع علامة صح علي نوع الملف في الجدول الآتي :-

نوع الملف			اسم الملف	الملف
فيديو	صورة	نصي		
			 كرة القدم.rtf
			 الأحصنة.mp4
			 جزر.png